

UNIVERSITÀ DEGLI STUDI DI CAGLIARI
FACOLTA' DI SCIENZE DELLA FORMAZIONE

CORSO DI LAUREA IN SCIENZE E TECNICHE PSICOLOGICHE APPLICATE ALL'APPRENDIMENTO E
ALLA SALUTE PSICOSOCIALE

Anno Accademico 2005/2006

1. Attualmente la Camera dei Deputati è presieduta da:

- (a) Pierferdinando Casini
- (b) Nicola Mancino
- (c) Massimo D'Alema
- (d) Luciano Violante
- (e) Marcello Pera

2. Indicare, tra le seguenti, quale coppia va eliminata:

- (a) gallina - 14
- (b) anatra - 12
- (c) oca - 6
- (d) pollo - 16
- (e) biglia - 12

3. *Vista la grande influenza esercitata sul nostro comportamento dal contesto culturale in cui siamo nati e cresciuti, si può avere l'impressione di essere stati spogliati di ogni individualità e del libero arbitrio. Potremmo cioè apparire come calchi ricavati con le matrici preconfezionate che la società ha preparato per noi. Alcuni sociologi tendono a parlare in questi termini della socializzazione – e addirittura della sociologia in generale! – ma questo punto di vista è fondamentalmente sbagliato.*

Il brano analizza:

- (a) il ruolo castrante dell'educazione nei confronti dell'espressione dell'individualità
- (b) l'importanza delle relazioni con gli altri durante la prima infanzia
- (c) il rapporto tra socializzazione e libertà individuale
- (d) gli studi sociologici sul ruolo sociale
- (e) la motivazione dell'individuo a interagire con la sociologia

4. Belgrado è una città:

- (a) Serba
- (b) Croata
- (c) Macedone
- (d) Kosovara
- (e) Polacca

5. Chi è stato l'ultimo imperatore dell'Impero Romano d'Occidente?

- (a) Giustiniano
- (b) Cesare Augusto
- (c) Romolo Augustolo
- (d) Costantino
- (e) Ottaviano

6. L'organismo internazionale con compiti di collegamento tra le polizie delle varie nazioni è:

- (a) l'FBI
- (b) l'INTERPOL
- (c) la CIA
- (d) i NAS
- (e) la NATO

7. Quale tra le seguenti parole non è un sinonimo delle altre?

- (a) geremiade
- (b) lagna
- (c) lamentela
- (d) dolore
- (e) recriminazione

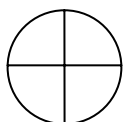
8. Chi era in Italia il Presidente del Consiglio nell'estate del 1994?

- (a) S. Berlusconi
- (b) M. D'Alema
- (c) R. Prodi
- (d) G. Andreotti
- (e) B. Craxi

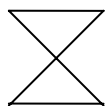
9. Il gollismo è:

- (a) un movimento politico francese fautore di una politica interna basata sul ruolo debole del Capo dello Stato
- (b) una malattia genetica
- (c) un movimento politico francese che si ispira alla politica di De Gaulle
- (d) l'applicazione rigida ed esclusiva di una ideologia o di una religione
- (e) il nome attribuito alle tifoserie calcistiche francesi

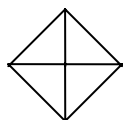
10. Quale figura va eliminata tra le seguenti?



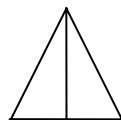
1



2



3



4

- (a) 1
- (b) 2
- (c) 3
- (d) 4
- (e) nessuna

11. In quale dei seguenti paesi europei l'eutanasia è completamente legale?

- (a) Olanda
- (b) Danimarca
- (c) Svezia
- (d) Lussemburgo
- (e) Francia

12. *L'osservazione partecipante è utilizzata soprattutto negli studi in ambienti naturali: l'osservatore si inserisce nel contesto che intende osservare, diviene membro del gruppo. In psicologia sociale questa metodologia è molto diffusa, in quanto l'osservazione delle interazioni e delle dinamiche di un gruppo è possibile solo con l'inserimento nel gruppo o del ricercatore o di un collaboratore.*

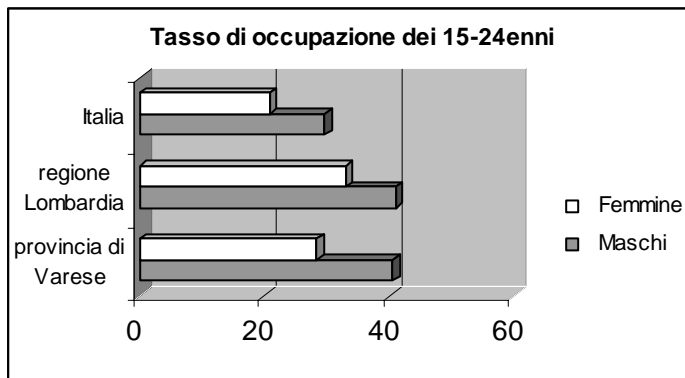
Dalla lettura del brano si evince che:

- (a) l'osservatore resta "nascosto" lasciando i soggetti ignari della sua presenza e del suo lavoro
- (b) l'osservatore registra i processi e non i contenuti
- (c) l'osservatore si serve dell'ausilio della telecamera
- (d) l'osservatore rende palese la sua presenza
- (e) l'osservatore deve necessariamente essere accompagnato da un collaboratore

13. Quanti anni è durato l'esilio degli eredi maschi della Famiglia Savoia:

- (a) 57
- (b) 42
- (c) 64
- (d) 20
- (e) 70

14. La lettura del seguente grafico suggerisce che:



- (a) la Lombardia ha una percentuale di occupati con un'età compresa tra i 15 e i 24 anni inferiore a quella dell'Italia
- (b) la provincia di Varese ha una percentuale di occupati con un'età compresa tra i 15 e i 24 anni superiore a quella dell'intera Lombardia
- (c) la Lombardia ha una percentuale di occupati con un'età compresa tra i 15 e i 24 anni superiore a quella della provincia di Varese
- (d) in Italia la percentuale di occupati è superiore a quella della provincia di Varese
- (e) nella regione Lombardia le donne hanno un tasso di disoccupazione inferiore agli uomini

15. Quale di questi paesi non fa parte dell'Unione Europea:

- (a) Svizzera
- (b) Estonia
- (c) Irlanda
- (d) Slovacchia
- (e) Ungheria

16. A quale Stato è affidato l'attuale coordinamento del contingente di pace dislocato in Afghanistan:

- (a) Stati Uniti
- (b) Italia
- (c) Francia
- (d) Gran Bretagna
- (e) Canada

17. Se $\bullet = \square$ e $\square + 2 = 9$, allora:

- (a) $\bullet = 7$
- (b) $\square = 3$
- (c) $\bullet = 4$
- (d) $\bullet = 2$
- (e) $\square = 9$

18. Chi è l'attuale presidente di Confindustria:

- (a) S. Ricucci
- (b) A. Fazio
- (c) L. Cordero di Montezemolo
- (d) L. Dini
- (e) G. Letta

19. Indicare quale tra le seguenti frasi è corretta:

- (a) io accendei un fuoco
- (b) io accendetti un fuoco
- (c) io accensi un fuoco
- (d) io accesi un fuoco
- (e) io accisi un fuoco

20. Nella forma esplicita dell'equazione della retta $y = mx + q$, la lettera m indica:

- (a) Il coefficiente angolare
- (b) L'ordinata all'origine
- (c) Sempre 1
- (d) L'ordinata nulla
- (e) L'ascissa nulla

21. Se si chiama *probabilità* p di un evento aleatorio, il rapporto fra il numero f dei risultati favorevoli ed il numero n dei risultati possibili, posto che questi fattori siano tutti *egualmente possibili* e se in un contenitore ci sono 14 biglie eguali, delle quali 7 sono bianche, 4 rosse 3 nere, qual è la probabilità p_{Bianche} che estraendone una essa sia bianca?

- (a) $2/7$
- (b) $1/2$
- (c) $3/14$
- (d) 1
- (e) $1/3$

22. Sostituire la parola mancante (i puntini) con una delle possibili risposte: “*Si chiama di due insiemi A e B l'insieme formato con gli elementi che stanno simultaneamente tanto in A quanto in B*”

- (a) Distribuzione
- (b) Unione
- (c) Intersezione
- (d) Commutazione
- (e) Riproduzione

23. Un uomo di poche parole è:

- (a) laconico
- (b) prolisso
- (c) tacito
- (d) sterile
- (e) logorroico

24. *Giustizia* è un nome:

- (a) proprio
- (b) comune
- (c) collettivo
- (d) astratto
- (e) cumulativo

25. Sostituire la parola mancante (i puntini) con una delle possibili risposte: “*Una qualunque legge che associ ad ogni elemento x di un insieme A uno ed un solo elemento y di un insieme B, si chiama corrispondenza univoca di A in B, oppure di A in B*”

- (a) Unione
- (b) Funzione
- (c) Moltiplicazione
- (d) Addizione
- (e) Divisione

26. Quale tra i seguenti plurali di nomi composti è errato?

- (a) i passaporti
- (b) i biancospini
- (c) i benessere
- (d) i capostazione
- (e) i paracadute

27. Sostituire la parola mancante (i puntini) con una delle possibili risposte: “*Si chiama di un numero reale positivo b rispetto alla base a, positiva e diversa dall'unità, quel numero reale a cui bisogna elevare la base a, perché il valore della potenza sia uguale a b (cioè $a^a = b$)*”

- (a) Potenza
- (b) Logaritmo
- (c) Radicale doppio
- (d) Polinomio
- (e) Monomio

28. *Proforma* è una locuzione utilizzata per indicare:
- (a) una formalità che serve comunque per salvare le apparenze
 - (b) uno stile di vita che si basa sul culto della forma fisica
 - (c) un'annotazione che serve per ricordare qualcosa
 - (d) un beneficio che si concede solo ad una persona e non ai suoi eredi
 - (e) una tecnica di fusione e modellamento dei metalli pesanti
29. Leggere attentamente il brano e indicare successivamente quale tra le seguenti affermazioni non è corretta
- La frustrazione è quella condizione in cui viene a trovarsi un individuo quando è ostacolato, temporaneamente o definitivamente, nella soddisfazione dei suoi bisogni. Ognuno di noi sperimenta sin dalla nascita questo tipo di esperienza, infatti i genitori e le altre figure significative rappresentano la fonte principale sia di soddisfazione sia di frustrazione dei bisogni.*
- (a) gli individui sperimentano frustrazione sin dalla nascita
 - (b) la frustrazione è generata dall'impossibilità, temporanea o definitiva, di soddisfare i propri bisogni
 - (c) la frustrazione è un vissuto dipendente in modo esclusivo dalle condizioni esterne in cui si trovano gli individui
 - (d) la frustrazione è un vissuto comune a tutti gli individui
 - (e) le figure significative sono la fonte primaria di frustrazione
30. L'equazione $x = 0$, rappresenta:
- (a) L'equazione cartesiana dell'asse y
 - (b) L'equazione cartesiana dell'asse x
 - (c) Nessuna equazione
 - (d) L'equazione cartesiana nulla
 - (e) L'equazione cartesiana di entrambi gli assi x e y
31. Indicare la parola che non è sinonimo delle altre:
- (a) manifestare
 - (b) svelare
 - (c) spiegare
 - (d) palesare
 - (e) rivelare
32. Indicare l'affermazione che è conseguenza logica della seguente premessa "*ogni camicia nera ha il colletto arrotondato*":
- (a) se una camicia ha il colletto a punta, allora è bianca
 - (b) se una camicia non ha il colletto arrotondato, allora non è nera
 - (c) se una camicia non ha il colletto arrotondato, allora è bianca
 - (d) se una camicia ha il colletto arrotondato, allora è nera
 - (e) nessuna delle precedenti
33. Nell'espressione *aiuta il povero*, la parola *povero* è:
- (a) un sostantivo aggettivato
 - (b) un sostantivo avverbiale
 - (c) un aggettivo sostantivato
 - (d) un aggettivo figurato
 - (e) un avverbio aggettivale

34. Quale fra i seguenti Stati ha concesso per ultimo alle donne il diritto di voto e di eleggibilità:

- (a) Svizzera
- (b) Italia
- (c) Francia
- (d) Belgio
- (e) Germania

35. *C'era una storia che raccontava di un uomo che si accorse dell'esistenza di alcuni individui che si nutrivano di sangue: vampiri. Quest'uomo decise che la cosa migliore da fare era di eliminare questi individui, sicuramente pericolosi. Incominciò la sua opera ma più vampiri uccideva, più si accorgeva di esserne circondato. Un giorno i vampiri lo catturarono e l'uomo si accorse di essere l'unico non vampiro in una società di vampiri. Dal canto loro, i vampiri da diverso tempo erano alla caccia di un «criminale» che conficcava paletti di legno nei cuori dei loro amici e parenti. Da questo racconto di R. Bradbury si evince che:*

- (a) la devianza è un concetto assoluto
- (b) la devianza dipende dalle caratteristiche personali degli individui
- (c) non sempre i vampiri sono pericolosi
- (d) la devianza è un concetto relativo
- (e) gli esseri umani sono conformisti

36. Carlo odia le api; le api sono insetti; chi odia le api odia la campagna

Allora è certo che:

- (a) Carlo odia tutti gli insetti
- (b) Carlo odia la campagna
- (c) Carlo odia le api di campagna
- (d) Chi odia gli insetti non può non odiare la campagna
- (e) Carlo ama la campagna

37. In quale delle seguenti frasi non c'è l'articolo determinativo:

- (a) ieri ho mangiato un gelato
- (b) il cane è legato a un guinzaglio
- (c) la vita in città offre molti stimoli
- (d) un fulmine ha colpito la mia casa
- (e) gli uomini sono mortali

38. In quale anno venne firmato l'accordo di pace per il Vietnam che pose, almeno ufficialmente, fine alla guerra:

- (a) nel 1945
- (b) nel 1940
- (c) nel 1973
- (d) nel 1956
- (e) nel 1975

39. L'ossimoro consiste:

- (a) nella ripetizione della stessa parola in diverse forme
- (b) nell'accostamento di parole di significato contrario
- (c) nell'anticipazione di un elemento del periodo
- (d) nella sostituzione di un termine con una proposizione di significato affine
- (e) in una parola o espressione non necessaria, ridondante

40. Leggere attentamente il seguente brano ed individuare successivamente l'affermazione corretta
Quando un gruppo deve raggiungere delle mete attraverso l'esecuzione di compiti specifici, è naturale che si stabiliscano dei modi comuni per collaborare e risolvere i problemi e che si formulino norme percepite da tutti come espressione del gruppo

- (a) le norme sono funzionali al rendimento del gruppo in quanto ne favoriscono l'organizzazione in vista del raggiungimento di un obiettivo
- (b) le norme mettono il gruppo in una condizione di debolezza, poiché la loro osservanza dipenderà quasi esclusivamente dalla presenza di controlli punitivi
- (c) in un gruppo è importante che un leader faccia osservare le norme
- (d) le norme consentono il mantenimento di un clima emotivo positivo all'interno di un gruppo
- (e) collaborare non conviene

41. Il 2 agosto 1980 rappresenta una data tristemente nota per la storia del nostro Paese. Ebbe luogo:

- (a) la strage di Bologna
- (b) la strage di piazza Fontana
- (c) l'uccisione di Aldo Moro
- (d) la strage di Ustica
- (e) la strage del Cerniss

42. L'equazione $y = -x$, rappresenta:

- (a) La bisettrice del primo e terzo quadrante
- (b) La bisettrice del primo e secondo quadrante
- (c) La bisettrice del secondo e terzo quadrante
- (d) La bisettrice del secondo e quarto quadrante
- (e) La bisettrice del primo e quarto quadrante

43. Quale fu in ordine di tempo la seconda capitale del Regno d'Italia?

- (a) Torino
- (b) Firenze
- (c) Roma
- (d) Milano
- (e) Napoli

44. Il Presidente egiziano che ha ottenuto il Nobel per la pace è:

- (a) Sadat
- (b) Gandhi
- (c) Hussein
- (d) Faruk
- (e) Arafat

45. Leggere attentamente il brano e indicare quale tra i seguenti termini va inserito al posto degli spazi lasciati in bianco

L'... è tra gli argomenti maggiormente sviluppati in ambito psicologico in quanto comprende i processi che operano nel corso dell'intera vita dell'individuo e gli permettono di interagire adeguatamente con il mondo esterno. L'... si può definire come l'insieme di processi in grado di provocare una modificazione dei vecchi modelli di comportamento o l'acquisizione di nuovi, consentendo perciò all'individuo la conoscenza (o una migliore conoscenza) dell'ambiente che lo circonda ed un adattamento ad esso sempre più efficace

- (a) intelligenza
- (b) apprendimento
- (c) adolescenza
- (d) emozione
- (e) aggressività

46. La guerra dei Cent'anni fu combattuta tra:

- (a) Germania e Francia
- (b) Francia e Inghilterra
- (c) Italia e Spagna
- (d) Spagna e Inghilterra
- (e) Inghilterra e Germania

47. Completare la seguente serie: mora, orma, ramo, ...

- (a) omar
- (b) amor
- (c) roma
- (d) nora
- (e) nessuna delle precedenti

48. Napoleone fu incoronato Imperatore a Nôtre Dame nel:

- (a) 2 dicembre 1804
- (b) 3 gennaio 1870
- (c) 23 gennaio 1799
- (d) 5 maggio 1821
- (e) 4 aprile 1813

49. Se si chiama *probabilità p* di un evento aleatorio, il rapporto fra il numero *f* dei risultati favorevoli ed il numero *n* dei risultati possibili, posto che questi fattori siano tutti *egualmente possibili* e se in un contenitore ci sono 14 biglie eguali, delle quali 7 sono bianche, 4 rosse, 3 nere, qual è la probabilità che estraendone una essa sia bianca o nera?

- (a) $5/7$
- (b) $4/7$
- (c) $3/14$
- (d) 1
- (e) $1/3$

50. Quale tra i seguenti personaggi è uno dei protagonisti dello sbarco in Normandia:

- (a) Mussolini
- (b) von Bismarck
- (c) De Gaulle
- (d) Eisenhower
- (e) Breznev

51. Ufficialmente Hitler è morto il 30 aprile 1945 nella città di:

- (a) Parigi
- (b) Londra
- (c) Berlino
- (d) Dresda
- (e) Colonia

52. Leggere la seguente definizione e indicare il concetto a cui fa riferimento:

Particolare caratteristica e/o patologia dell'individuo presente fin dalla nascita. Da non confondere con i termini ereditario e innato, che definiscono quelle caratteristiche e/o patologie la cui comparsa è causata dall'azione e/o dall'anomalia di uno o più geni o di un segmento di essi

- (a) ereditario
- (b) embrionale
- (c) congenito
- (d) appreso
- (e) riflesso

53. Indicare quale parola completa la serie *carro, giostra, monte, quaderno, ...*

- (a) canarino
- (b) usignolo
- (c) pettirosso
- (d) diamantino
- (e) rondine

54. Se 9 7 5 6 2 si trasforma in 5 2 9 7 6, quale sequenza di lettere sarà originata da A D F K L?

- (a) F L A D K
- (b) D A L F K
- (c) K D F L A
- (d) F A L K D
- (e) A F L K D

55. *Il caldo che si protrae nelle ore notturne costringe il sistema di termoregolazione dell'organismo ad entrare in azione anche a notte fonda. Dal canto suo, la maggior propensione a far le ore piccole in cerca di refrigerio tende ad alterare gli abituali ritmi sonno-veglia: sono questi i maggiori responsabili dell'insonnia sporadica, un problema che in estate interessa moltissime persone.*

Dal brano si evince che:

- (a) l'insonnia sporadica è un fenomeno tipicamente estivo
- (b) l'insonnia è un fenomeno geneticamente determinato
- (c) l'insonnia è un fenomeno costante indipendentemente dalle stagioni
- (d) l'insonnia sporadica è un fenomeno estremamente raro
- (e) l'insonnia sporadica è un meccanismo di regolazione del sonno

56. Inserire le lettere mancanti: L/M – N/I – P/G – R/E – ...

- (a) U/A
- (b) T/C
- (c) C/T
- (d) V/B
- (e) B/V

57. Quale, tra le seguenti, è una parola estranea a “vocabolario”?

- (a) barcaiolo
- (b) cavolo
- (c) corvo
- (d) arrivo
- (e) baco

58. Indicare la lettera che completa la serie di iniziali F - A - G - A - O - ...

- (a) D
- (b) G
- (c) H
- (d) E
- (e) Z


59. *Le intossicazioni alimentari sorgono frequentemente dopo aver bevuto acqua o mangiato cibi contaminati da batteri di vario tipo e in particolare quelli del ceppo della salmonella. I sintomi sono febbre, vomito, nausea, dolori addominali. Se i malesseri durano da più di 48 ore, o si presenta una gastroenterite, è necessario rivolgersi quanto prima al medico.*

Dal brano si evince che:

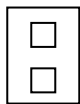
- (a) le intossicazioni alimentari possono causare patologie croniche
- (b) se si presenta una gastroenterite è necessario attendere almeno 48 ore prima di consultare il medico
- (c) le intossicazioni alimentari rappresentano un serio problema medico
- (d) sintomi quali febbre, vomito, nausea sono la causa di intossicazione alimentare
- (e) le intossicazioni alimentari sono più frequenti tra i bambini

60. Quale tra questi diagrammi rappresenta la relazione tra:

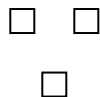
PATATE – TUBERI - ORTAGGI



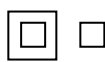
1



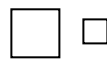
2



3



4



5

- (a) 1
- (b) 2
- (c) 3
- (d) 4
- (e) 5

61. Indicare quale parola completa la serie *bradipo, emporio, hotel, minuetto, ...*

- (a) carretto
- (b) polizia
- (c) dado
- (d) borsa
- (e) casa

62. Individuare il termine non pertinente:

- (a) bellezza
- (b) raduno
- (c) risotto
- (d) settembre
- (e) duetto

63. *Perché la girandola giri è sufficiente che qualcuno soffi.* Se l'affermazione precedente è vera quale delle seguenti deve essere vera?

- (a) le persone soffiano per far girare le girandole
- (b) una girandola non può girare se nessuno soffia
- (c) è possibile che la girandola giri anche se qualcuno non soffia
- (d) prima che una girandola giri è necessario che qualcuno soffi
- (e) nessuna delle precedenti

64. Se L viene dopo di X, X viene prima di K, M viene prima di L, V viene dopo di L allora:

- (a) M viene prima di X
- (b) X viene dopo di K
- (c) K viene prima di M
- (d) K è l'ultima della serie
- (e) X viene prima di L

65. Indicare la parola che completa la serie *visone, cavilli, meraviglia ...*

- (a) stacanovisti
- (b) ruvidi
- (c) video
- (d) sviluppi
- (e) gravide

66. Sostituire la parola mancante (i puntini) con una delle possibili risposte: *Si chiama "Prodotto".....di A per B, nell'ordine scritto, l'insieme che ha per elementi tutte le coppie ordinate che hanno come primo elemento un elemento di A e come secondo un elemento di B*

- (a) Associativo
- (b) Cartesiano
- (c) Unico
- (d) Primario
- (e) Secondario

67. Quale tra le seguenti parole è un'intrusa?

- (a) rosa
- (b) lilla
- (c) viola
- (d) giglio
- (e) pervinca

68. Indicare il numero che completa la serie: 10, 7, 9, 6, 8, 5, ...

- (a) 7
- (b) 6
- (c) 5
- (d) 4
- (e) 1

69. Quale elemento completa la serie seguente: Ancona, Catania, Enna, Genova ...

- (a) Imperia
- (b) Iesolo
- (c) Livorno
- (d) Mantova
- (e) Salerno

70. Completare la seguente serie di numeri: 28, 32, 30, 34, ...

- (a) 32
- (b) 26
- (c) 36
- (d) 24
- (e) 42

Le chiediamo di rispondere alle seguenti domande di tipo socio-anagrafico finalizzate alla raccolta di informazioni di tipo statistico che saranno trattate in forma aggregata e non saranno in alcun modo a Lei ricondotte:

71. Genere (a) Maschile (b) Femminile	72. Età (a) 18-25 (b) 26-30 (c) 31-35 (d) 36-50 (e) oltre 50
73. Tipo di diploma (a) Liceo (b) Istituto tecnico (c) Istituto professionale (d) Altro	74. Voto di diploma (a) 36-42/60; 60-70/100 (b) 43-46/60; 71-77/100 (c) 47-60/60; 78-100/100
75. Ha già conseguito un diploma di laurea (a) No (b) Sì, triennale, area umanistica (c) Sì, triennale, area scientifica (d) Sì, precedenti ordinamenti, area umanistica (e) Sì, precedenti ordinamenti, area scientifica	76. Titolo di studio del padre (a) Licenza elementare (b) Licenza media inferiore (c) Licenza media superiore (d) Diploma (e) Laurea
77. Titolo di studio della madre (a) Licenza elementare (b) Licenza media inferiore (c) Licenza media superiore (d) Diploma (e) Laurea	78. Professione del padre (a) Dipendente (settore pubblico e privato) (b) Libero professionista (c) Imprenditore (d) Pensionato (e) Nessuna occupazione
79. Professione della madre (a) Dipendente (settore pubblico e privato) (b) Libera professionista (c) Pensionata (d) Casalinga (e) Nessuna occupazione	